

**ПРИГЛАСИТЕЛЬНЫЙ ШКОЛЬНЫЙ ЭТАП
ВСЕРОССИЙСКОЙ ОЛИМПИАДЫ
ШКОЛЬНИКОВ ОБЖ. 2023 г. 6–7 классы**

Тестовые задания

**Определите один правильный ответ.
За правильный ответ начисляется 2 балла.**

1 Что запрещает изображённый знак безопасности?

- а) «проход запрещён»**
- б) «вход запрещён»
- в) «доступ посторонним запрещён»
- г) «выход запрещён»



2 Какое значение имеет визуальный сигнал «земля – воздух»?

- а) «нужен врач – серьёзные телесные повреждения»**
- б) «двигаемся в этом направлении»
- в) «положительно»
- г) «не понял»



3 Температура воды +2 и +3 °C оказывается смертельной для человека через

- а) 10–15 минут**
- б) 5–8 минут
- в) 7–9 минут
- г) 9–11 минут

4 Ураган по шкале Бофорта соответствует

- а) 6 баллам
- б) 8 баллам
- в) 10 баллам
- г) 12 баллам**

5 Наводнения, вызванные весенним таянием снега на равнинах или таянием снега и ледников в горах, называют

- а) паводком
- б) половодьем**
- в) затором
- г) зажором

6 На представленном рисунке изображён пожар

- а) скрытый
- б) открытый
- в) наружный
- г) внутренний**




- 7 **Верны ли суждения, что если террорист, пытаясь спасти свою жизнь, направил на Вас пистолет, то необходимо**
А. выполнять его требования
Б. ждать, когда Вас освободят
а) верно только А
б) верно только Б
в) верны оба суждения
г) оба суждения неверны
- 8 **Канцерогенные вещества, входящие в состав табачного дыма, провоцируют в организме человека**
а) повреждение печени
б) повреждение нервной системы
в) развитие злокачественных опухолей
г) развитие заболеваний сердечно-сосудистой системы
- 9 **При выполнении подробного осмотра пострадавшего при оказании первой помощи в последнюю очередь осматривается(-ются)**
а) голова
б) грудь
в) живот
г) конечности
- 10 **С какой частотой выполняется давление на грудину пострадавшего при проведении сердечно-лёгочной реанимации?**
а) 50 –60 в минуту
б) 70–80 в минуту
в) 80–100 в минуту
г) 100–120 в минуту

Порядок оценивания тестовых заданий с одним правильным ответом.

- за правильный ответ начисляется **2 балла**;
- **0 баллов** выставляется за неправильный ответ, а также если отмечены несколько ответов (в том числе правильный).

Определите все правильные ответы.

За каждый правильный ответ начисляется 2 балла.

- 1 **Что из перечисленного относится к сопутствующим проявлениям опасных факторов пожара?**
а) части разрушившихся транспортных средств
б) токсичные вещества и материалы, попавшие в окружающую среду
в) тепловой поток
г) повышенная концентрация токсичных продуктов горения
д) пониженная концентрация кислорода
- 2 **Сотрудник полиции в случае обращения к нему гражданина обязан назвать**
а) свои имя и отчество
б) свои должность и звание
в) номер своего нагрудного жетона
г) свою фамилию
д) наименование своего подразделения
- 3 **Какие виды опасных насекомых изображены на фотографиях?**
а) шершень
б) каракурт
в) слепень
г) аргиопа
д) пчела
- 
- 4 **Основными причинами гибели людей при пожарах являются**
а) отравление токсичными продуктами горения
б) повышенная температура среды
в) открытый огонь, искры, пламя
г) потеря видимости вследствие задымления и невозможность найти выход
д) разрушение конструкций здания
- 5 **Для образования лавин должны быть следующие условия**
а) крутизна склона не менее 15°
б) крутизна склона не менее 50°
в) протяжённость склона не менее 100 м
г) толщина снежного покрова не менее 30 см
д) толщина снежного покрова не менее 20 см
- 6 **В случае если горит торфяное поле (болото), то, выходя из пожара, необходимо**
а) идти против ветра
б) идти по ветру
в) ощупывать дорогу шестом
г) двигаться перпендикулярно ветру
д) осторожно наступать на землю

- 7 Сепаратизм переводится как
а) **разделять**
б) угрожать
в) **отделять**
г) паниковать
д) объединять
- 8 При употреблении каких продуктов питания существует наибольшая опасность заражения ботулизмом?
а) плохо промытых овощей и фруктов
б) **консервов домашнего приготовления**
в) молочных продуктов
г) кондитерских изделий домашнего приготовления
д) **солёной, вяленой рыбы**
- 9 Какие из суждений о правилах наложения кровоостанавливающего жгута являются верными?
а) **жгут накладывается только при артериальном кровотечении**
б) жгут накладывается ниже раны, как можно ближе к ней
в) на плечо жгут накладывается на среднюю и нижнюю треть
г) **на бедро жгут накладывается на среднюю и верхнюю треть**
д) каждый тур жгута накладывается с максимальным натяжением
- 10 При каких состояниях покрывало спасательное изотермическое накладывается серебристой стороной наружу?
а) **тепловом ударе**
б) травматическом шоке
в) переохлаждении
г) **солнечном ударе**
д) значительной потере крови

Порядок оценивания тестовых заданий с несколькими правильными ответами. Максимальная оценка за каждое правильно выполненное задание – **4 балла**, при этом

- за каждый правильный ответ начисляется **2 балла**;
- **0 баллов** выставляется за неправильный ответ, а также если отмечены более двух ответов (в том числе правильные).

Максимум за задания – 60 баллов.

Таблица ответов на тестовые задания теоретического тура











Номер задания	Верный ответ Тестовые задания с одним правильным ответом	Верный ответ Тестовые задания с несколькими правильными ответами
1	а	а, б
2	а	б, г
3	а	а, г
4	г	а, г
5	б	а, г
6	г	а, в
7	в	а, в
8	в	б, д
9	г	а, г
10	г	а, г

Максимум за задания 60 баллов.

Теоретические задания

Задание 1

Знание дорожных знаков помогает сохранить жизнь и здоровье пешеходу и водителю. Выберите номера знаков, соответствующие группе и наименованию знаков. Ответ запишите в таблицу.

1		6	
2		7	
3		8	
4		9	
5		10	

Ответ:

Знак особых предписаний «Пешеходный переход»	2
Предупреждающий знак «Крутой подъём»	1
Предписывающий знак «Велосипедная дорожка»	4
Информационный знак «Надземный пешеходный переход»	10
Знак особых предписаний «Жилая зона»	7

Оценка задания. Максимальная оценка за правильно выполненное задание – **10 баллов**, при этом:

- за каждый правильный ответ начисляется **2 балла**;
- при отсутствии правильных ответов баллы не начисляются.

Задание 2

Сопоставьте класс пожара и его характеристику.

Класс пожара	Характеристика класса пожара
A	Горение жидких веществ
B	Горение твёрдых веществ
C	Горение металлов и металлосодержащих веществ
D	Объект тушения пожара находится под электрическим напряжением
E	Горение газообразных веществ

Оценка задания. Максимальная оценка за правильно выполненное задание – **10 баллов**, при этом:

- за каждый правильный ответ начисляется **2 балла**;
- при отсутствии правильных ответов баллы не начисляются.

Задание 3

Победа в Великой Отечественной войне – героический подвиг народа. День Победы мы отмечаем как главный праздник страны. Сопоставьте изображения памятников, посвящённых Великой Отечественной войне, с их названиями.

Изображение памятника	Наименование памятника / кому установлен
	Монумент «Родина-мать» в городе-герое Волгограде
	Памятник защитникам Брестской крепости
	Монумент «Родина-мать» в городе-герое Киеве
	Памятник воинам-сибирякам
	Монумент «Родина-мать» в городе-герое Минске

Оценка задания. Максимальная оценка за правильно выполненное задание – **10 баллов**, при этом:

- за каждый правильный ответ начисляется **2 балла**;
- при отсутствии правильных ответов баллы не начисляются.

Задание 4–5

Опасность артериального кровотечения связана с высокой скоростью кровопотери, которая в считанные минуты может привести к смерти пострадавшего, если первая помощь не будет оказана своевременно.

1		Брючный ремень
2		Электрический шнур от утюга
3		Галстук
4		Кусок плотной ткани
5		Кровоостанавливающий жгут

Укажите номера подручных средств, которые можно использовать для временной остановки артериального кровотечения.

Ответ: 1, 3, 4

Оценка задания. Максимальная оценка за правильно выполненное задание – **6 баллов**, при этом:

- за каждый правильный ответ начисляется **2 балла**;
- **0 баллов** выставляется за неправильный ответ, а также если отмечены более трёх ответов (в том числе правильные).

Укажите номера средств, не являющихся подручными, и тех, которые нельзя использовать для остановки артериального кровотечения.

Ответ: 5, 2

Оценка задания. Максимальная оценка за правильно выполненное задание – **4 балла**, при этом:

- за каждый правильный ответ начисляется **2 балла**;
- **0 баллов** выставляется за неправильный ответ, а также если отмечены более двух ответов (в том числе правильные).

Максимальная оценка за работу – 100 баллов.